

**WIZARA YA ELIMU NA MAFUNZO YA UFUNDI**  
**MTIHANI WA TAIFA WA DARASA LA NNE - 2013**

---

**051**

**SOMO: HISABATI**

**JINA LA MTAHINIWA:** \_\_\_\_\_

**JINA LA SHULE:** \_\_\_\_\_

**HALMASHAURI:** \_\_\_\_\_


**MKOA:** \_\_\_\_\_


**MUDA: SAA 1:15**

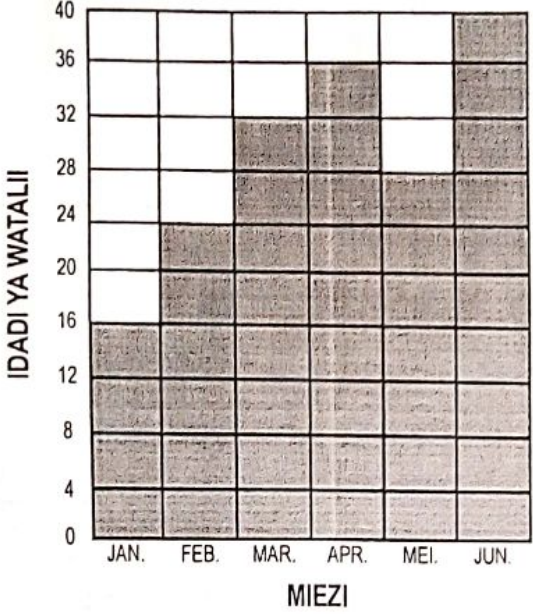
**MAELEKEZO:**

1. Mtihani huu una jumla ya maswali 25.
2. Jibu maswali yote kama ilivyoelekezwa.
3. Majibu ya maswali yote yaandikwe kwenye karatasi za mtihani huu.
4. Kumbuka kuandika jina lako, jina la shule, halmashauri na mkoa.
5. Simu za mkononi na kikokotoo haviruhusiwi kwenye chumba cha mtihani.
6. Majibu yote yaandikwe kwa kutumia kalamu ya wino wa bluu au mweusi.

## JIBU MASWALI YAFUATAYO

Na.	SWALI	SEHEMU YA KAZI	JIBU
1.	$\begin{array}{r} 7999 \\ + 2001 \\ \hline \hline \end{array}$		
2.	$\begin{array}{r} 19678 \\ - 796 \\ \hline \hline \end{array}$		
3.	$\begin{array}{r} 593 \\ \times 18 \\ \hline \hline \end{array}$		
4.	$17 \overline{)1734}$		
5.	Andika 49 kwa tarakimu za kirumi.		
6.	XI + IX = (Andika jawabu lako kwa tarakimu za kawaida).		
7.	$\frac{7}{9} - \frac{3}{9} =$		
8.	Dotto alisoma $\frac{1}{2}$ -ya kitabu cha hadithi. Je, alibakiza sehemu gani ya kitabu hicho?		
9.	Andika jina la mstari huu ufuatao: $Q \longleftarrow \longrightarrow R$		
10.	Umbo la pembetatu lina vipande vingapi vya mstari?		
11.	Tafuta mzingo wa umbo lifuatalo. <div style="text-align: center;"> <p>sm. 19</p>  <p>sm. 64</p> </div>		

12.	Tafuta eneo la mraba huu. m. 24 												
13.	Badili mm. 20 kuwa sm.												
14.	Umbali kati ya mtaa wa Ujamaa na mtaa wa Jitegemee ni km. 45. Umbali huu ni sawa na meta ngapi?												
15.	Amani hutembea km. 1 kila siku. Umbali huu ni sawa na meta ngapi?												
16.	Kuna $\frac{1}{4}$ lita ngapi za maziwa katika lita $8\frac{1}{4}$ ?												
17.	Ndoo moja ina ujazo wa lita 20 za maji. Ndoo ngapi zenye ujazo huo huo zinaweza kujaza pipa lenye ujazo wa lita 600?												
18.	Gramu 4500 + gramu 1500 = (Jawabu liwe katika kilogramu).												
19.	Kuna gramu ngapi katika kilogramu 18 ?												
20.	<table style="margin-left: 20px;"> <tr><td>Saa</td><td>Dakika</td></tr> <tr><td>3</td><td>45</td></tr> <tr><td>+ 4</td><td>17</td></tr> <tr><td colspan="2"><hr/></td></tr> <tr><td colspan="2"><hr/></td></tr> </table>	Saa	Dakika	3	45	+ 4	17	<hr/>		<hr/>			
Saa	Dakika												
3	45												
+ 4	17												
<hr/>													
<hr/>													
21.	<table style="margin-left: 20px;"> <tr><td>Saa</td><td>Dakika</td></tr> <tr><td>4</td><td>30</td></tr> <tr><td>- 1</td><td>40</td></tr> <tr><td colspan="2"><hr/></td></tr> <tr><td colspan="2"><hr/></td></tr> </table>	Saa	Dakika	4	30	- 1	40	<hr/>		<hr/>			
Saa	Dakika												
4	30												
- 1	40												
<hr/>													
<hr/>													

22.	<p>Grafu ifuatayo inaonesha idadi ya watalii waliotembelea hifadhi za taifa kwa kipindi cha miezi sita.</p>  <p>Je, ni watalii wangapi jumla walitembelea mwezi Februari na Mei?</p>												
23.	Sh.10000 – Sh.350 =												
24.	<table style="margin-left: auto; margin-right: auto;"> <tr> <td style="padding-right: 20px;">Sh.</td> <td>St.</td> </tr> <tr> <td style="padding-right: 20px;">4670</td> <td>90</td> </tr> <tr> <td style="padding-right: 20px;">+ 2303</td> <td>75</td> </tr> <tr> <td style="border-top: 1px solid black; padding-top: 2px;"></td> <td style="border-top: 1px solid black; padding-top: 2px;"></td> </tr> <tr> <td style="border-top: 1px solid black; padding-top: 2px;"></td> <td style="border-top: 1px solid black; padding-top: 2px;"></td> </tr> </table>	Sh.	St.	4670	90	+ 2303	75						
Sh.	St.												
4670	90												
+ 2303	75												
25.	<p>Pili alikwenda sokoni na kununua vifaa vifuatavyo:-          Kabeji 2 @ sh.200          Nyanya 3 @ sh.200          Vitunguu 2 @ sh.100          Maharagwe kg. 2 @ sh.1200.          Ikiwa alikuwa na sh.5000 alirudishiwa shilingi ngapi.</p>												